

Simulation #15

Aufgabe 1




- (A) r
- (B) l
- (C) u
- (D) o
- (E) h



Aufgabe 2



- (A) r
- (B) l
- (C) u
- (D) o
- (E) h




Aufgabe 3




- (A) r
- (B) l
- (C) u
- (D) o
- (E) h



Aufgabe 4




- (A) r
- (B) l
- (C) u
- (D) o
- (E) h



Aufgabe 5



- (A) r
- (B) l
- (C) u
- (D) o
- (E) h



Aufgabe 6



- (A) r
- (B) l
- (C) u
- (D) o
- (E) h



Aufgabe 7



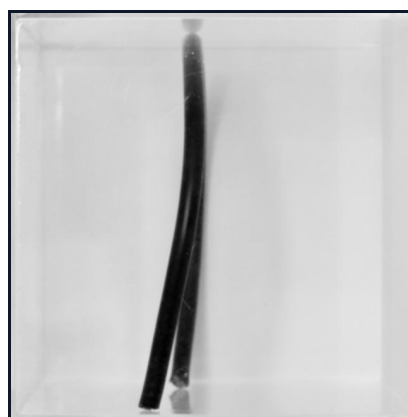
- (A) r
- (B) l
- (C) u
- (D) o
- (E) h



Aufgabe 8



- (A) r
- (B) l
- (C) u
- (D) o
- (E) h



Aufgabe 9



- (A) r
- (B) l
- (C) u
- (D) o
- (E) h



Aufgabe 10



- (A) r
- (B) l
- (C) u
- (D) o
- (E) h



Aufgabe 11




- (A) r
- (B) l
- (C) u
- (D) o
- (E) h




Aufgabe 12




- (A) r
- (B) l
- (C) u
- (D) o
- (E) h



Aufgabe 13



- (A) r
- (B) l
- (C) u
- (D) o
- (E) h



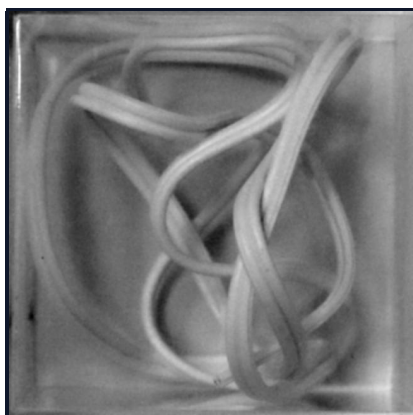
Aufgabe 14



- (A) r
- (B) l
- (C) u
- (D) o
- (E) h



Aufgabe 15




- (A) r
- (B) l
- (C) u
- (D) o
- (E) h




Aufgabe 16




- (A) r
- (B) l
- (C) u
- (D) o
- (E) h




Aufgabe 17




- (A) r
- (B) l
- (C) u
- (D) o
- (E) h




Aufgabe 18




- (A) r
- (B) l
- (C) u
- (D) o
- (E) h



Aufgabe 19



- (A) r
- (B) l
- (C) u
- (D) o
- (E) h




Aufgabe 20



- (A) r
- (B) l
- (C) u
- (D) o
- (E) h




Aufgabe 21




- (A) r
- (B) l
- (C) u
- (D) o
- (E) h




Aufgabe 22




- (A) r
- (B) l
- (C) u
- (D) o
- (E) h



Aufgabe 23



- (A) r
- (B) l
- (C) u
- (D) o
- (E) h



Aufgabe 24



- (A) r
- (B) l
- (C) u
- (D) o
- (E) h



Lösungen — Simulation #15

Aufgabe 1	A	Aufgabe 2	E
Aufgabe 3	A	Aufgabe 4	A
Aufgabe 5	A	Aufgabe 6	A
Aufgabe 7	E	Aufgabe 8	C
Aufgabe 9	C	Aufgabe 10	B
Aufgabe 11	D	Aufgabe 12	B
Aufgabe 13	E	Aufgabe 14	D
Aufgabe 15	D	Aufgabe 16	D
Aufgabe 17	D	Aufgabe 18	B
Aufgabe 19	E	Aufgabe 20	B
Aufgabe 21	B	Aufgabe 22	E
Aufgabe 23	A	Aufgabe 24	A

